

**Examenul de bacalaureat național 2020**  
**Proba E. d)**  
**Geografie**

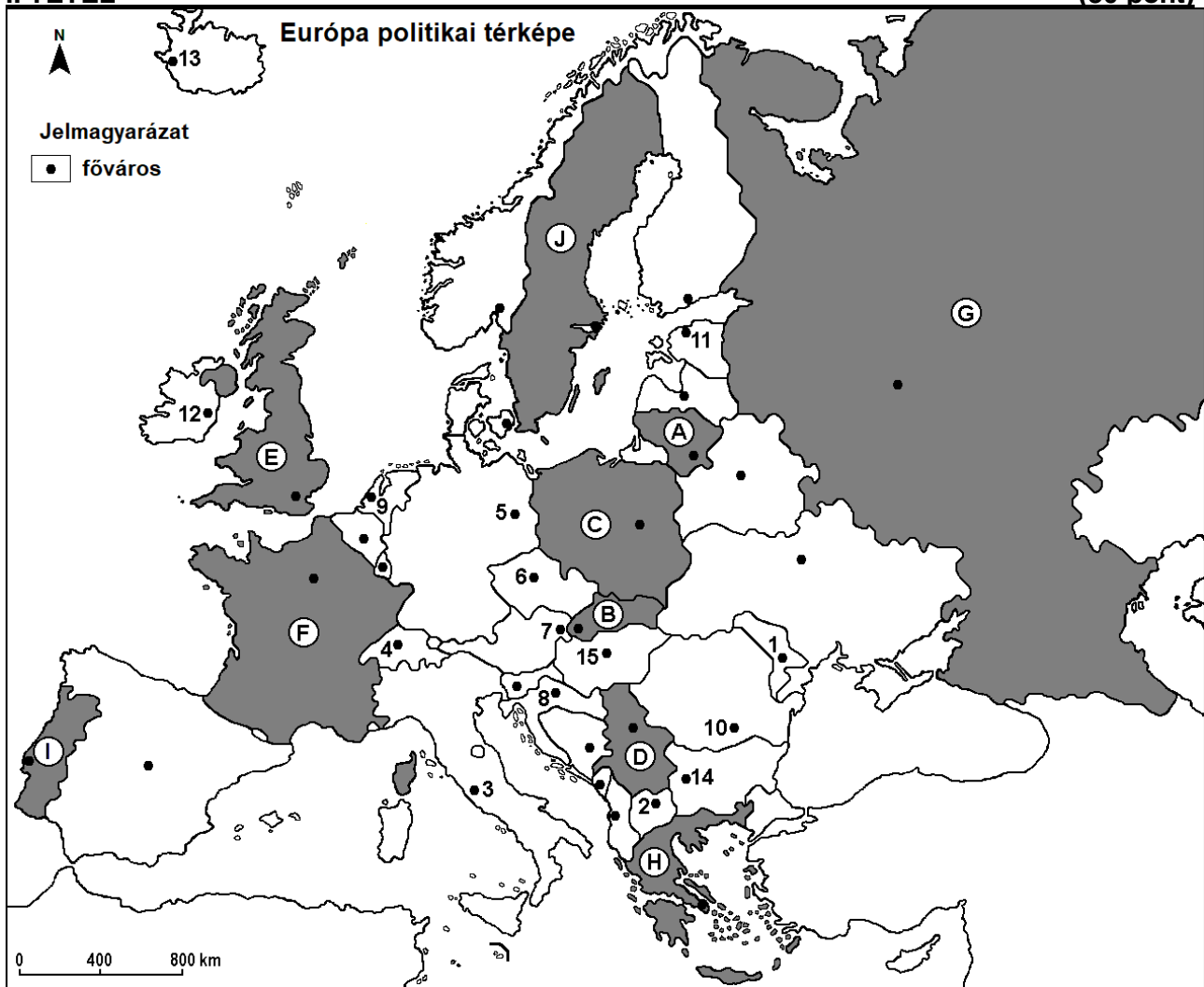
Test 11

*Profilul umanist din filiera teoretică, profilul servicii din filiera tehnologică și toate profilurile și specializările din filiera vocațională, cu excepția profilului militar*

- **Minden tétel kötelező. Hivatalból 10 pont jár.**
- **Munkaidő 3 óra.**

**I. TÉTEL**

**(30 pont)**



A fenti térkép az I. tétel A-D pontjaira vonatkozik. A térképen az országokat betűk, a fővárosokat számok jelölik.

A. Nevezzétek meg:

1. a D betűvel jelölt országot.;
2. a 8-as számmal jelölt fővárost.

**4 pont**

B. Írjátok a vizsgalapra az alábbi mondatokat kiegészítő helyes válaszokat:

1. Szkopje fővárost a térképen a ... szám jelöli.
2. Az F betűvel jelölt ország fővárosát a ... folyó szeli át.
3. A 15-ös számmal jelölt főváros neve ...

**6 pont**

**C. Írjátok a vizsgalabra a helyes válasz betűjelét:**

1. Stockholm a következő betűvel jelölt ország fővárosa:  
a. A                      b. B                      c. C                      d. J                      **2 pont**
2. Mérsékelt szárazföldi éghajlat jellemző abban az országban, amelynek fővárosát a következő szám jelöli:  
a. 1                      b. 3                      c. 12                      d. 13                      **2 pont**
3. Működő vulkánok találhatóak azokban az országokban, amelyek fővárosait a következő számok jelzik:  
a. 1 és 10                      b. 2 és 12                      c. 3 és 13                      d. 4 és 14                      **2 pont**
4. A Rajna átszeli azt az országot, amelynek fővárosát a következő szám jelöli:  
a. 6                      b. 7                      c. 8                      d. 9                      **2 pont**
5. Tundra növényzet jellemző a következő betűvel jelölt ország északi részén:  
a. C                      b. E                      c. F                      d. G                      **2 pont**

**D. Nevezetek meg két hasonlóságot és egy különbséget az E és az F betűkkel jelölt országok éghajlata között.**

**1. megjegyzés:** A hasonlóságok és különbség a következő **éghajlati elemek** bármelyikére vonatkozhatnak: éghajlati tényezők, éghajlattípus, évi/nyári/téli középhőmérsékletek, hőmérsékleti amplitúdó, évi/nyári/téli átlagos csapadék, gyakori szelek.

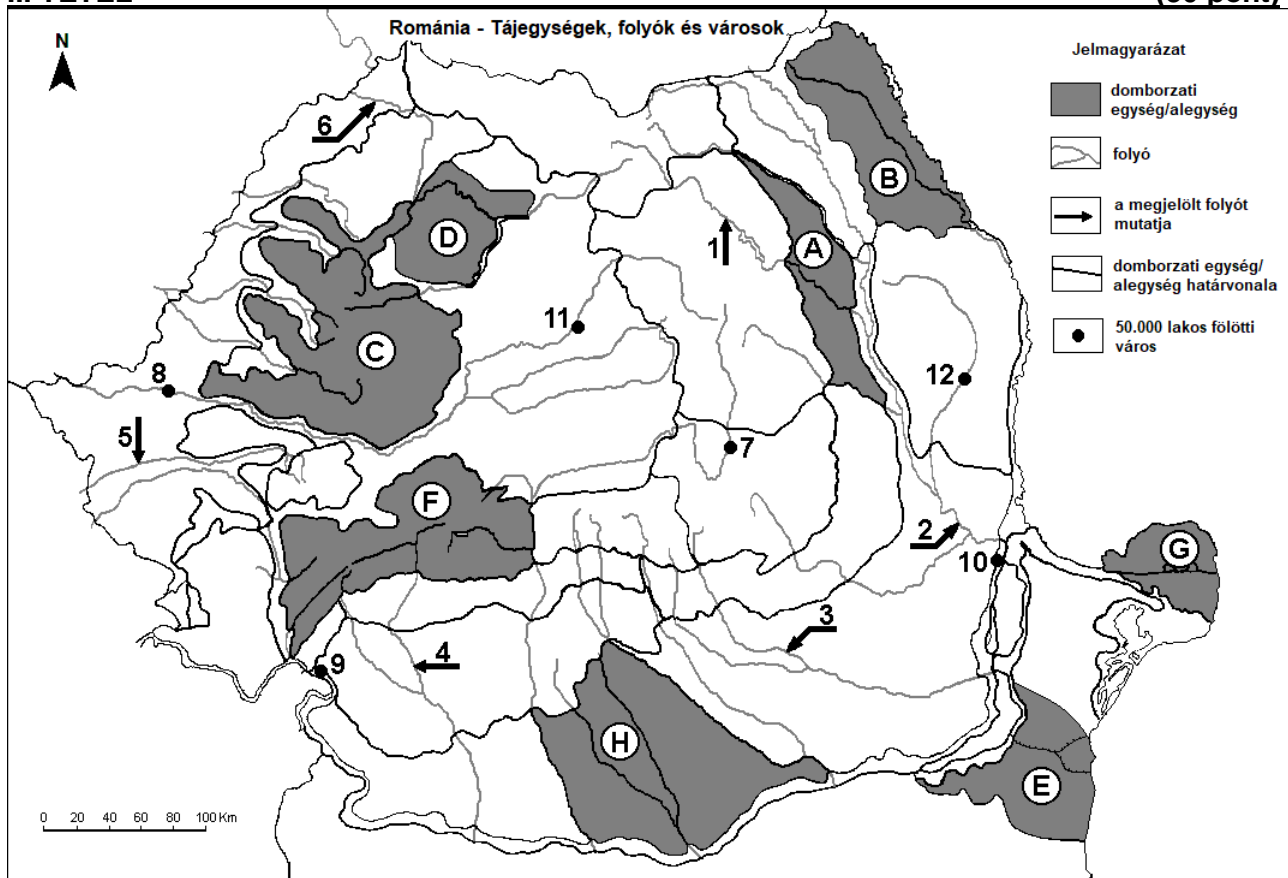
**2. megjegyzés:** A teljes pontszám csak abban az esetben adható meg, ha a hasonlóságokat és a különbséget összehasonlítóképpen és nem külön-külön írjátok le. **6 pont**

**E. Nevezetek meg két okot, ami meghatározza Észak-Európa alacsony népsűrűségi értékeit.**

**4 pont**

**II. TÉTEL**

**(30 pont)**



A fenti térkép a II. tétel A – D pontjaira vonatkozik. A térképen a betűk domborzati egységeket, a számok 1-től 6-ig folyókat, 7-től 12-ig városokat jelölnek.

**A. Nevezétek meg:**

1. a 8-as számmal jelölt várost.;
2. a 6-os számmal jelölt folyót.

**4 pont**

**B.** Írjátok a vizsgalagra az alábbi mondatokat kiegészítő helyes válaszokat:

1. A **9-es** és **10-es** számmal jelölt városok a ... folyón kikötők.
2. A Prahova folyót a(z) ... szám jelöli.
3. A legfiatalabb domborzati egységet a térképen a(z) ... betű jelöli. **6 pont**

**C.** Írjátok a vizsgalagra a helyes válasz betűjelét:

1. Lőszotakarót találunk az alábbi betűvel jelölt domborzati alegység területén:  
a. A                                  b. B                                  c. E                                  d. G **2 pont**
2. A **12-es** számmal jelölt várost a következő folyó szeli át:  
a. Bârlad                          b. Jijia                              c. Szeret (Siret)                  d. Vaslui **2 pont**
3. Az **1-es** számmal jelölt folyó:  
a. vízenergia szempontjából hasznosított      b. a Tatros (Trotuș) mellékfolyója  
c. átszeli Csíkszeredát                              d. átszeli a Kárpátkanyari-Szubkárpatokat **2 pont**
4. Az **F** betűvel jelölt tájegység altalajkincse a:  
a. szén                              b. metángáz                          c. vasérc                              d. kőolaj **2 pont**
5. A térképen **11-es** számmal jelölt város neve:  
a. Beszterce                          b. Kolozsvár                          c. Szászrégen                          d. Marosvásárhely **2 pont**

**D.** Írjátok három különbséget a térképen **B** és **C** betűkkel jelölt tájegységek **domborzata** között.

1. **megjegyzés:** A különbségek a **domborzat** következő jellemzőire vonatkozhatnak: kialakulási mód, köztettani felépítés, tengerszint feletti magasságok, tagoltság, felszíntípusok, a vonulatok és a fontosabb völgyek iránya, a medencék elhelyezkedése és más domborzati jellemzők.

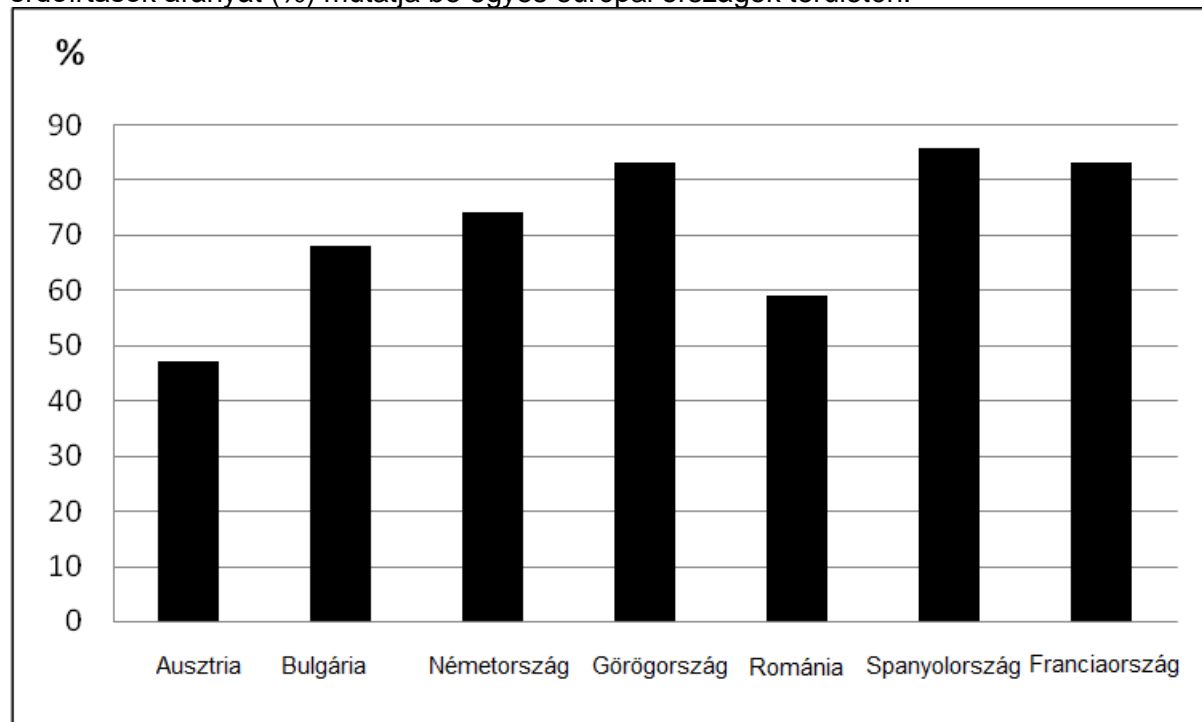
2. **megjegyzés:** A teljes pontszám csak abban az esetben adható meg, ha a különbségeket összehasonlításképpen és nem külön-külön írjátok le. **6 pont**

**E.** Mutassatok be két okot, ami megmagyarázza, hogy a hegyvidéken az állattenyésztés elterjedtebb, mint a növénytermesztés. **4 pont**

### III. TÉTEL

**(30 pont)**

Az alábbi grafikus ábra a **III. tétel A-B** pontjaira vonatkozik, és az elmúlt 800 évben bekövetkezett erdőirtások arányát (%) mutatja be egyes európai országok területén.



**A.** Írjátok le:

1. az erdőirtás legnagyobb arányát és az országot, ahol ez bekövetkezett;
2. az erdőirtás legkisebb arányát és az országot, ahol ez bekövetkezett. **4 pont**

- B. 1.** Nevezzetek meg két okot, amelyek a grafikonon ábrázolt nagyfokú erdőirtásokhoz vezettek.  
**2.** Nevezzétek meg az erdőirtások egy következményét.

**6 pont**

**C. A Nyugati-alföldre** vonatkozóan írjátok le:

1. két szomszédos domborzati egység nevét;
2. annak az európai alföldnek a nevét, amelynek részét képezi;
3. a felépítésében résztvevő egy közettípus nevét;
4. egy felszín típust/domborzattípust;
5. két domborzat alegység nevét;
6. két külső éghajlati hatást;
7. a jellemző növényzeti öv nevét.

**10 pont**

**D.** Az alábbi táblázat Románia születési (‰) és elhalálozási (‰) arányszámát mutatja be 1956 – 1998 között.

Év	Születési arányszám	Elhalálozási arányszám
1956	24,2 ‰	9,9 ‰
1977	19,6 ‰	9,6 ‰
1998	10,5 ‰	12,0 ‰

Számítsátok ki:

1. a természetes szaporulat értékét 1956-ban;
2. az 1977-ben és 1998-ban regisztrált születési arányszámok értékei közötti különbséget;
3. az 1977-ben és 1998-ban regisztrált elhalálozási arányszámok értékei közötti különbséget.

**6 pont**

**E.** Írjátok két érvet a következő kijelentés alátámasztására: „A kulturális turizmus Róma egyik jellegzetessége”.

**4 pont**